

**CARGO: FISCAL DE URBANISMO**

Nome do(a) Candidato(a): \_\_\_\_\_

Nº de Inscrição: \_\_\_\_\_

Assinatura \_\_\_\_\_

**PROVA TIPO 1**

MARQUE O TIPO DE PROVA ACIMA NO SEU CARTÃO RESPOSTA. MARCAÇÃO INCORRETA OU **NÃO MARCAÇÃO** DO TIPO DE PROVA, ASSIM COMO A **NÃO TRANSCRIÇÃO** DA FRASE NO **CARTÃO RESPOSTA**, SÃO DE INTEIRA RESPONSABILIDADE DO CANDIDATO, IMPLICANDO NA SUA **ELIMINAÇÃO**.

**INSTRUÇÕES AO CANDIDATO**

1. Confira se, além desta **PROVA**, você recebeu o seu **CARTÃO RESPOSTA**, destinado à marcação das respostas das questões.
2. Confira se o seu número de inscrição, nome e data de nascimento constam no seu **CARTÃO RESPOSTA**. Em caso de erros comunique imediatamente ao fiscal de sala, para que este proceda o registro na Ata de Sala, que deverá ser assinada por você, ao lado da modificação.
3. Somente em caso de urgência peça ao fiscal para ir ao banheiro, sempre acompanhado do fiscal itinerante, **devendo, no percurso, permanecer absolutamente calado**, podendo, nesse momento, sofrer revista com detectores de metais. Ao término da sua prova, você não poderá mais utilizar o banheiro.
4. É obrigatório que você preencha e assine o cabeçalho desta prova, assine a **LISTA DE PRESENÇA** e o **CARTÃO RESPOSTA**, do mesmo modo como está assinado no seu documento de identificação.
5. Você deverá permanecer, obrigatoriamente, no local de realização da sua prova, por, no mínimo, 01 (uma) hora após o seu início, e somente poderá retirar-se levando sua prova, nos últimos 60 (sessenta) minutos do horário determinado para o término da prova.
6. A maneira correta de marcar as respostas no **CARTÃO RESPOSTA** encontra-se como exemplo no próprio cartão, e deverá ser feita somente com caneta esferográfica de tinta preta ou azul.
7. Em hipótese alguma haverá substituição do **CARTÃO RESPOSTA** por erro do candidato. A substituição só será autorizada se for constatada falha de impressão.
8. Os **três últimos candidatos deverão permanecer em sala** aguardando até que todos concluam a prova para assinarem a ata de sala e saírem conjuntamente.
9. O saco plástico recebido para guarda do material deverá, obrigatoriamente, ser colocado embaixo de sua carteira. O descumprimento dessa medida, assim como de outras constantes no Edital do concurso e nesta capa de prova, implicará na sua eliminação, constituindo tentativa de fraude. **Boa Prova!**



Leia atentamente o texto a seguir para responder às questões de 01 a 10.

### **População pode impedir propagação de fake news nas mídias sociais**

Hérica Teixeira | Sesp-MT

01 A disseminação de notícias falsas, as chamadas fake news, tem colocado a vida  
02 de pessoas inocentes em risco, pela rapidez com que estas veiculações tomam as mídias  
03 sociais e por criarem uma verdade que não existe. Segundo informações de técnicos da  
04 Adjunta de Inteligência da Secretaria de Estado de Segurança Pública (Sesp), uma  
05 solução para frear o avanço de notícias falsas é checar a fonte e, em caso de dúvida se  
06 o assunto é verdadeiro ou não, o correto a fazer é não compartilhar.

07 Nas últimas semanas, o estado de Mato Grosso foi alvo de algumas fake news,  
08 que colocaram as forças de segurança em alerta. Um dos casos apontava uma onda de  
09 sequestros de crianças e adolescentes em Cuiabá e Várzea Grande. Contudo, a Polícia  
10 Judiciária Civil confirmou que apenas um boletim de ocorrência foi registrado sobre o  
11 caso em Cuiabá, onde a mãe narra que tentaram levar sua filha enquanto passava por  
12 um ponto de ônibus, na região do Residencial Aricá. A denunciante já foi ouvida pela  
13 polícia.

14 Ainda sobre o caso, a Polícia Judiciária Civil informou que não há nenhum  
15 registro de criança desaparecida na região metropolitana, junto ao Núcleo de Pessoas  
16 Desaparecidas, da Delegacia Especializada de Homicídios e Proteção a Pessoas  
17 (DHPP).

18 Diante dos fatos que envolvem notícias falsas, a Coordenadoria de Infraestrutura  
19 Estratégica da Sesp apontou alguns cuidados a serem tomados pelos usuários da rede  
20 mundial de internet.

21 O primeiro deles é ler com atenção a notícia e não focar o título, pois segundo os  
22 técnicos, há sites voltados só para criar notícias falsas e o artifício para atrair leitores é  
23 criar chamadas de impacto e o texto não conter nenhum embasamento lógico.

24 Outro cuidado é checar a fonte. Quando o usuário receber uma informação pelo  
25 aplicativo de mensagem, como o WhatsApp, que apareça a chamada da matéria e logo  
26 abaixo o endereço do site (URL) e um resumo do título, o correto a fazer é verificar se o  
27 site é confiável.

28 O terceiro passo é constatar se a informação recebida já consta em veículos de  
29 comunicação oficial, seja ele nacional ou local, dependendo da amplitude da notícia. A  
30 quarta instrução é fazer buscas por sites de checagens livres. Há vários disponíveis no  
31 mercado, a exemplo de boatos.org, aos fatos, projeto comprova, dentre outros.

32 A quinta instrução é que os sites oficiais apresentam um cadeado na barra de  
33 notícia (região superior da tela). Essa é uma medida a ser verificada pelo usuário. A sexta  
34 pontuação da equipe de inteligência da Sesp aponta que apesar do número de fake news  
35 ser predominante nas mídias sociais, a sociedade tem o poder de ampliar a divulgação  
36 de um boato. “Uma pessoa que ouviu falar algo e sai reproduzindo a informação, por  
37 exemplo, é uma das atitudes que mobilizam esforços e causam pânico desnecessário”.

38 Ainda segundo os técnicos, o mais importante cuidado é o bom senso e o zelo  
39 ao próximo. O cidadão precisa ter a consciência de que uma pessoa inocente ser  
40 envolvida em uma história falsa poderá acarretar em danos sociais, morais, psicológicos  
41 e até mesmo à vida.

42 Os autores de fake news poderão responder por comunicação falsa de crime ou  
43 denúncia caluniosa.

- 01** De acordo com o texto, a notícia da onda de sequestros de crianças e adolescentes em Cuiabá e Várzea Grande era
- (A) absolutamente tendenciosa.
  - (B) totalmente mentirosa.
  - (C) parcialmente verdadeira.
  - (D) potencialmente perigosa.
- 02** Com o intuito de diminuir a ocorrência de fake news, a Sesp enumerou
- (A) direitos a serem exigidos.
  - (B) precauções a serem tomadas.
  - (C) ordens a serem obedecidas.
  - (D) deveres a serem cumpridos.
- 03** Para a Sesp, um indício de que uma notícia é verdadeira é
- (A) conter uma chamada que cause impacto.
  - (B) referir-se a um fato surpreendente.
  - (C) partir de uma fonte que goze de prestígio.
  - (D) constar em veículo de comunicação confiável.
- 04** A autora do texto sugere que
- (A) a maioria das notícias que circulam nas redes sociais é falsa.
  - (B) as notícias falsas são reproduzidas por pessoas criminosas.
  - (C) existe uma tendência a acreditar em notícias inverídicas.
  - (D) veículos de comunicação oficial podem publicar notícias falsas.
- 05** Em *Contudo, a Polícia Judiciária Civil confirmou que apenas um boletim de ocorrência foi registrado sobre o caso em Cuiabá, onde a mãe narra que tentaram levar sua filha enquanto passava por um ponto de ônibus, na região do Residencial Aricá* (linhas 9 a 12), a palavra grifada se refere a
- (A) Cuiabá e Várzea Grande.
  - (B) Polícia Judiciária Civil.
  - (C) boletim de ocorrência.
  - (D) Cuiabá.
- 06** Em *O primeiro deles é ler com atenção a notícia e não focar o título, pois segundo os técnicos, há sites voltados só para criar notícias falsas e o artifício para atrair leitores é criar chamadas de impacto e o texto não conter nenhum embasamento lógico* (linhas 21 a 23), o termo focar é sinônimo de
- (A) considerar.
  - (B) distinguir.
  - (C) destacar.
  - (D) mirar.
- 07** Uma preposição foi omitida em
- (A) *Um dos casos apontava uma onda de sequestros de crianças e adolescentes em Cuiabá e Várzea Grande* (linhas 8 e 9).
  - (B) *Ainda sobre o caso, a Polícia Judiciária Civil informou que não há nenhum registro de criança desaparecida na região metropolitana, junto ao Núcleo de Pessoas Desaparecidas, da Delegacia Especializada de Homicídios e Proteção a Pessoas (DHPP)* (linhas 14 a 17).
  - (C) *Quando o usuário receber uma informação pelo aplicativo de mensagem, como o WhatsApp, que apareça a chamada da matéria e logo abaixo o endereço do site (URL) e um resumo do título, o correto a fazer é verificar se o site é confiável* (linhas 24 a 27).
  - (D) *O terceiro passo é constatar se a informação recebida já consta em veículos de comunicação oficial, seja ele nacional ou local, dependendo da amplitude da notícia* (linhas 28 e 29).

**08** Uma vírgula obrigatória deixou de ser empregada em

(A) Segundo informações de técnicos da Adjunta de Inteligência da Secretaria de Estado de Segurança Pública (Sesp), uma solução para frear o avanço de notícias falsas é checar a fonte e, em caso de dúvida se o assunto é verdadeiro ou não, o correto a fazer é não compartilhar (linhas 3 a 6).

(B) Ainda sobre o caso, a Polícia Judiciária Civil informou que não há nenhum registro de criança desaparecida na região metropolitana, junto ao Núcleo de Pessoas Desaparecidas, da Delegacia Especializada de Homicídios e Proteção a Pessoas (DHPP) (linhas 14 a 17).

(C) O primeiro deles é ler com atenção a notícia e não focar o título, pois segundo os técnicos, há sites voltados só para criar notícias falsas e o artifício para atrair leitores é criar chamadas de impacto e o texto não conter nenhum embasamento lógico (linhas 21 a 23).

(D) A quarta instrução é fazer buscas por sites de checagens livres (linhas 29 e 30).

**09** A palavra grifada é preposição em

(A) A disseminação de notícias falsas, as chamadas fake news, tem colocado a vida de pessoas inocentes em risco, pela rapidez com que estas veiculações tomam as mídias sociais e por criarem uma verdade que não existe (linhas 1 a 3).

(B) Ainda sobre o caso, a Polícia Judiciária Civil informou que não há nenhum registro de criança desaparecida na região metropolitana, junto ao Núcleo de Pessoas Desaparecidas, da Delegacia Especializada de Homicídios e Proteção a Pessoas (DHPP) (linhas 14 a 17).

(C) O primeiro deles é ler com atenção a notícia e não focar o título, pois segundo os técnicos, há sites voltados só para criar notícias falsas e o artifício para atrair leitores é criar chamadas de impacto e o texto não conter nenhum embasamento lógico (linhas 21 a 23).

(D) O cidadão precisa ter a consciência de que uma pessoa inocente ser envolvida em uma história falsa poderá acarretar em danos sociais, morais, psicológicos e até mesmo à vida (linhas 39 a 41).

**10** Uma regra de regência foi desobedecida em

(A) Nas últimas semanas, o estado de Mato Grosso foi alvo de algumas fake news, que colocaram as forças de segurança em alerta (linhas 7 e 8).

(B) Diante dos fatos que envolvem notícias falsas, a Coordenadoria de Infraestrutura Estratégica da Sesp apontou alguns cuidados a serem tomados pelos usuários da rede mundial de internet (linhas 18 a 20).

(C) Há vários disponíveis no mercado, a exemplo de boatos.org, aos fatos, projeto comprova, dentre outros (linhas 30 e 31).

(D) O cidadão precisa ter a consciência de que uma pessoa inocente ser envolvida em uma história falsa poderá acarretar em danos sociais, morais, psicológicos e até mesmo à vida (linhas 39 a 41).

## MATEMÁTICA E RACIOCÍNIO LÓGICO

**11** Suponha que uma pessoa tenha um boleto de R\$ 1.350,00 que, ao ser pago após o vencimento, é acrescido de juros e multa. Os juros são calculados sobre o total do boleto, em regime de juros simples, a uma taxa de 1,2% ao dia, e a multa é definida por um valor fixo de R\$ 2,70. Se este boleto for pago com 10 dias de atraso, o novo valor será de

(A) R\$ 1.357,70.

(B) R\$ 1.358,90.

(C) R\$ 1.510,50.

(D) R\$ 1.514,70.

RASCUNHO

12 O Boletim de Urna de uma seção eleitoral informou que, dos 360 eleitores aptos votar, 306 compareceram à votação, entre os quais 12 anularam ou votaram em branco. Com base nessas informações, é possível afirmar que o percentual de eleitores ausentes é igual a

- (A) 10%.
- (B) 15%.
- (C) 20%.
- (D) 25%.

13 Em um grupo de 22 pessoas, sabe-se que 14 delas gostam de abacate e 12 gostam de maçã. Com base nessas informações, é possível afirmar que

- (A) todas as pessoas gostam de apenas uma fruta.
- (B) há pessoas que não gostam de ambas as frutas.
- (C) todas as pessoas gostam das duas frutas.
- (D) há pessoas que gostam de ambas as frutas.

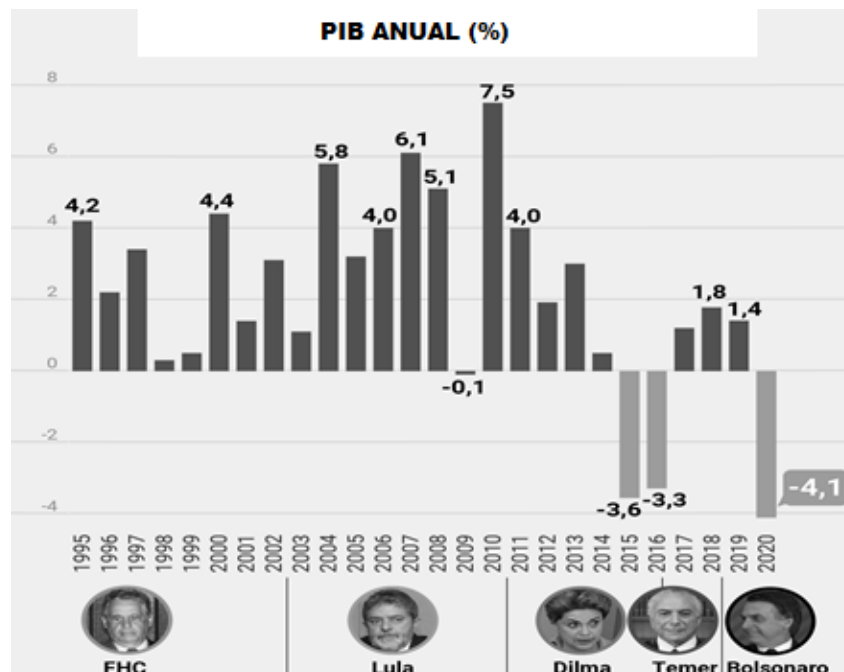
14 No quadro a seguir, apresenta-se o número de alunos que solicitaram transferência de uma escola, no período de 2015 a 2022.

ANO	2015	2016	2017	2018	2019	2020	2021	2022
Nº DE ALUNOS TRANSFERIDOS	06	14	18	19	23	20	25	40

Com base nessas informações, conclui-se que

- (A) o número de transferências em 2017 é o triplo da quantidade de transferências em 2015.
- (B) o número de transferências em 2019 é 50% menor em relação ao ano de 2022.
- (C) 2016 foi o ano com o menor número de transferências no período de 2015 a 2018.
- (D) o número de transferências manteve-se constante de 2019 a 2022.

15 A evolução do Produto Interno Bruto (PIB) do Brasil de 1995 a 2020 é apresentada no gráfico a seguir.



Fonte: <https://www.poder360.com.br/governo/bolsonaro-minimiza-queda-do-pib-e-um-dos-paises-que-menos-caiu-no-mundo/>

Com base nas informações apresentadas no gráfico, é possível afirmar que o PIB do Brasil

- (A) não ultrapassou 4% no período de 1995 a 2002.
- (B) atingiu patamares negativos em três anos no período de 2016 a 2020.
- (C) atingiu o maior valor no período de 2004 a 2011.
- (D) não superou a marca de 1,5% no período de 2016 a 2020.

## LEGISLAÇÃO MUNICIPAL

**16** O artigo 41 da Lei Municipal nº 4.231, de 26 de abril de 2002, define o ato pelo qual o servidor passa a ter exercício em outro órgão da Administração Municipal, no âmbito do mesmo quadro de pessoal, como

- (A) Remoção.
- (B) Transferência.
- (C) Cedência.
- (D) Cessão.

**17** O Estatuto dos Servidores do Município de Parauapebas em seu artigo 26 estabelece que, ao entrar em exercício, o servidor nomeado para cargo de provimento efetivo ficará sujeito a estágio probatório por um período de

- (A) 24 (vinte e quatro) meses.
- (B) 36 (trinta e seis) meses.
- (C) 12 (doze) meses.
- (D) 18 (dezoito) meses.

**18** A Lei Municipal nº 4.231, de 26 de abril de 2002, determina no seu artigo 26 que durante o estágio probatório a aptidão e a capacidade do servidor serão avaliadas para o desempenho do cargo, sendo observados, além de outros fatores, a

- (A) isenção.
- (B) criatividade.
- (C) comunicabilidade.
- (D) produtividade.

**19** O artigo 35 da Lei Municipal nº 4.231, de 26 de abril de 2002, define Readaptação como o(a)

- (A) retorno do servidor concursado estável ao cargo anteriormente ocupado.
- (B) retorno à atividade de servidor aposentado por invalidez quando, por junta médica oficial, declarados insubsistentes os motivos determinantes da aposentadoria.
- (C) elevação do servidor à classe imediatamente superior àquela a que pertence, na mesma carreira, desde que comprovada, mediante avaliação prévia, sua capacidade para exercício das atribuições da classe correspondente.
- (D) investidura do servidor em cargo de atribuições e responsabilidades compatíveis com a limitação que tenha sofrido em sua capacidade física ou mental, verificada em inspeção médica.

**20** O Estatuto dos Servidores do Município de Parauapebas, no seu artigo 182, veda a acumulação remunerada de cargos públicos, exceto

- (A) dois cargos de técnico pedagógico; um cargo de fiscal com outro científico; dois cargos privativos da área da saúde.
- (B) um cargo de técnico com outro de advogado; dois cargos de enfermeiro; dois cargos privativos de contador.
- (C) dois cargos de professor; um cargo de professor com outro técnico ou científico; dois cargos privativos de médico.
- (D) um cargo de médico com outro de pesquisador; dois cargos de advogado; dois cargos privativos de gerência.

**21** De acordo com o artigo 32 da Lei Orgânica do Município de Parauapebas, a Câmara Municipal só poderá funcionar com a presença mínima de

- (A) 1/3 (um terço) dos seus membros.
- (B) 30% (trinta por cento) dos seus membros.
- (C) 2/3 (dois terços) dos seus membros.
- (D) 50% (cinquenta por cento) dos seus membros.

**22** No artigo 108 da Lei Orgânica do Município de Parauapebas reza que ele atuará para que a ordem econômica e social seja fundada na valorização do trabalho humano e na livre iniciativa, tendo por fim assegurar a todos existência digna, conforme os ditames da justiça social, observados, entre outros, o princípio do(a)

- (A) estímulo ao mercado e o desenvolvimento econômico.
- (B) função privada da propriedade.
- (C) redução das desigualdades sociais.
- (D) exploração comercial do meio ambiente.

**23** De acordo com a Lei Orgânica do Município de Parauapebas, em seu artigo 115, o instrumento básico da política urbana é o(a)

- (A) Regulamento Urbano promulgado pela Secretaria Municipal de Urbanismo.
- (B) Plano Diretor aprovado pela Câmara Municipal.
- (C) Regimento Urbano deferido pelo Gabinete do Prefeito.
- (D) Instrução Normativa de Desenvolvimento emitida pela Secretaria de Obras.

**24** O artigo 119 da Lei Orgânica de Parauapebas determina que o município, nos limites de sua competência, estabeleça uma política agrícola, que vise à assistência aos trabalhadores rurais e às suas organizações, fixada a partir de planos plurianuais de desenvolvimento, e que contemple, entre outras ações,

- (A) restrição ao desenvolvimento da agroindústria.
- (B) programas de eletrificação, telefonia e irrigação.
- (C) descarte sistemático de todo e qualquer resíduo orgânico.
- (D) ampliação do uso de agrotóxicos para proteção da agricultura.

**25** Tendo em vista agregar a Casa da Cultura, o Centro de Convenções e o Museu Municipal, que deverão abrigar documentos e objetos importantes para a preservação da memória de Parauapebas, a Lei Orgânica, em seu artigo 146, prescreve a criação do(a)

- (A) Centro Cultural Municipal.
- (B) Instituto Municipal de Cultura.
- (C) Fundo Municipal de Apoio à Cultura.
- (D) Fundação Cultural de Parauapebas.

## **NOÇÕES DE INFORMÁTICA**

**26** Com relação à licença GPL (licença pública geral), considere verdadeira (V) ou falsa (F) cada uma das afirmativas a seguir.

- I. A licença GPL utiliza os princípios do direito autoral para proteger o software livre e assegurar que ninguém possa torná-lo proprietário.
- II. A licença GPL assegura as quatro liberdades para o software livre, ou seja, o uso para qualquer fim, o estudo de seus códigos, a sua melhoria e a sua redistribuição.
- III. Dentro da licença GPL existe o conceito de *copyright*, que garante apenas ao proprietário do software livre o direito de acessar o seu código-fonte.

A sequência correta é

- (A) I – F, II – V, III – V.
- (B) I – V, II – F, III – V.
- (C) I – V, II – V, III – F.
- (D) I – F, II – F, III – F.

**27** A assistente virtual de produtividade pessoal do sistema operacional Windows 10 é chamada de

- (A) Alexa.
- (B) Cortana.
- (C) Siri.
- (D) Bixby.



**28** A funcionalidade oferecida pelo serviço de *webmail* Gmail que permite definir uma data de validade para as mensagens enviadas é chamada de

- (A) modo confidencial.
- (B) assinatura.
- (C) citação.
- (D) Cco.

**29** Com relação aos conceitos de armazenamento em nuvem, é correto afirmar que

- (A) o modelo de implementação *multi-cloud* utiliza uma combinação de nuvens, que pode ser apenas nuvens públicas, para melhorar a redundância, reduzir os custos e aumentar o desempenho.
- (B) o serviço de armazenamento em nuvem da Microsoft é o iCloud, que oferece produtos como o Hotmail e versões on-line do pacote de escritório Office.
- (C) a característica da computação em nuvem associada à ampliação ou redução dos recursos de acordo com a demanda é chamada de interoperabilidade.
- (D) o modelo de implementação híbrido permite que uma nuvem privada tenha seus recursos ampliados a partir de uma reserva de recursos em uma nuvem pública.

**30** No Microsoft Word 365, versão desktop em Português (Brasil) para Windows, uma função que cria textos de acordo com o tamanho desejado pelo usuário é a

- (A) ABS.
- (B) MOD.
- (C) RAND.
- (D) ROUND.

## CONHECIMENTOS ESPECÍFICOS FISCAL DE URBANISMO

**31** Segundo os princípios e as determinações legais vigentes da política urbana no Brasil, no Estado do Pará e no Município de Parauapebas, consoante a Lei Municipal Complementar n.º 024, de 05/10/2021 (Plano Diretor do Município de Parauapebas-PA), a função social da cidade e da propriedade urbana e rural compreende a(o)

- (A) prioridade dada a áreas, zonas, bairros e distritos com maior eficiência econômica, como maior renda domiciliar instalada e maior densidade de capital imobilizado (empresas, escritórios, lojas), que se traduz em destinação de maior volume de recursos para infraestrutura e urbanização, resultando em aumento da arrecadação municipal.
- (B) divisão da cidade em distritos e Regiões Administrativas Municipais, conforme o Plano Diretor (Lei Municipal nº 024/2021), entre as quais define-se, para aqueles mais centrais, a necessidade premente de destinação orçamentária de recursos de nova provisão de infraestrutura e manutenção.
- (C) tratamento socialmente segregado de territórios indígenas e de populações originárias em geral, uma vez que não se coadunam com modos de vida modernos e, legalmente, não podem ser enquadradas em áreas urbanas ou rurais.
- (D) distribuição equitativa dos custos de urbanização, bem como de seus benefícios territorialmente dispostos, combatendo-se a subutilização e ociosidade no uso da terra e o uso especulativo dos imóveis urbanos.

**32** A atividade profissional de Fiscal, em termos da Administração Pública do Brasil, é expressão do Poder de Polícia, particularmente de medidas preventivas de manutenção da lei e da ordem em geral, porém dentro das especialidades setoriais respectivas. Sobre o tema, é correto afirmar que a(o)

**(A)** atividade profissional de Fiscal expressa-se na rotina de rondas de monitoramento, cadastro e registro das atividades econômicas e construções da cidade, de modo a coibir e combater ilícitos, inclusive penais.

**(B)** Poder de Polícia autoriza administrativamente o profissional de fiscalização a operar medidas de restrição à circulação de pessoas, quando condenadas judicialmente.

**(C)** ideia central seria a de, em casos extremos, emitir notificação por escrito com dados do infrator e dar voz de prisão, a depender da gravidade da irregularidade cometida.

**(D)** atividade profissional de Fiscal reflete-se na verificação, notificação e no registro documental de incongruências entre a norma e as condições reais encontradas em situações e locais.

**33** A seguir vê-se um *fac-símile* do Mapa 11, anexo do Plano Diretor do Município de Parauapebas-PA. O mapa trata das Zonas Especiais de Interesse Social (ZEIS). O conceito de ZEIS na legislação brasileira e as determinações do Plano Diretor Municipal (artigos 43 a 45) dizem que

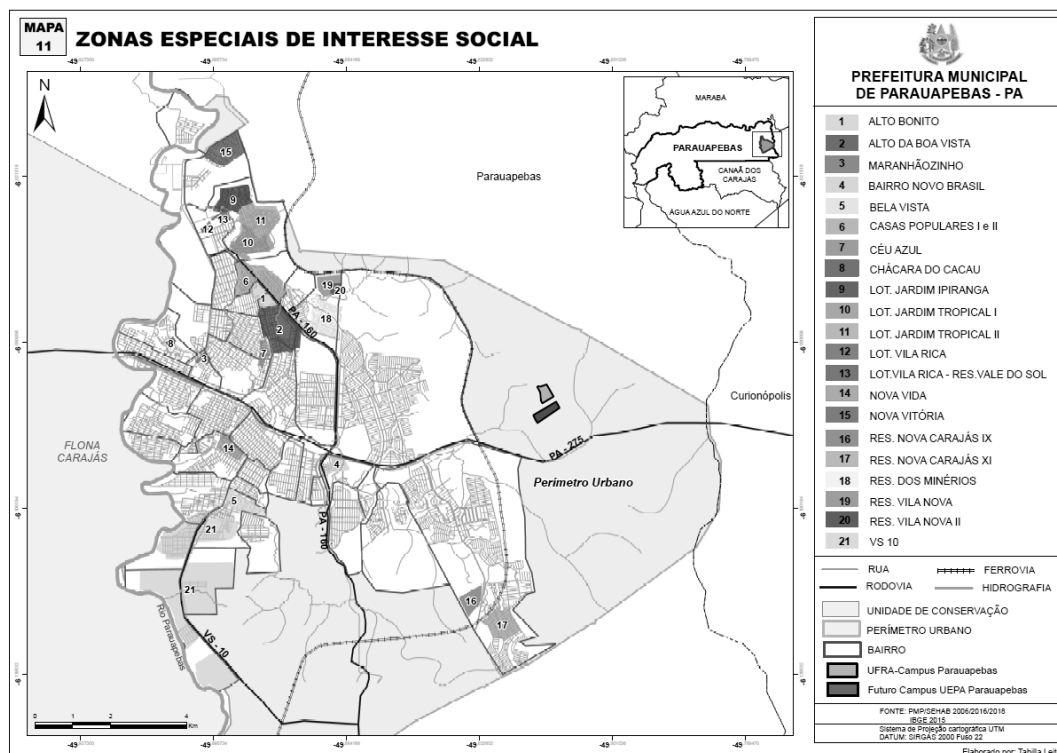


Figura 1 Mapa 11, anexo do Plano Diretor de Parauapebas (Lei Complementar 024/2021); zonas especiais de interesse social.

**(A)** a ZEIS representa uma área da cidade, dentro do Zoneamento Urbanístico, que se destina à implantação de empreendimentos da economia popular e solidária.

**(B)** estas áreas são identificadas como locais de risco ambiental, social e urbanístico, sendo caracterizadas como zonas destinadas à remoção de populações afetadas.

**(C)** trata-se de locais delimitados como precários urbanisticamente, irregulares em termos fundiários e receptores de iniciativas de manutenção do direito à moradia.

**(D)** são zonas assinaladas como territórios de criminalidade destacada, acima da média local, o que implica em obrigação municipal de destaque e fiscalização da Guarda Municipal.

**34** A legislação municipal de Parauapebas-PA contém o conceito de *usos geradores de incomodidade* (Lei 024/2021, Art. 54- Plano Diretor do Município de Parauapebas). Sobre ele, é correto afirmar que a(o)

**(A)** análise da incompatibilidade de usos não exclui a eventual obrigatoriedade de Estudo Prévio de Impacto de Vizinhança (EIV) ou de licenciamento ambiental.

**(B)** poluição sonora é registrada quando a fonte geradora de ruído atinge 150 db(A) em áreas urbanas residenciais, segundo norma técnica vigente, replicada na referida Lei.

**(C)** conceito de poluição atmosférica é medido e avaliado qualitativamente pelo fiscal na medida em que mensura a taxa de oxigênio dissolvido ou demanda bioquímica de oxigênio-dbO.

**(D)** município, quanto à poluição hídrica, pontua especial atenção a elemento ou substâncias volatilizáveis, geradoras de incomodidade através de partículas sólidas e gases inaláveis.

**35** O trânsito e o tráfego de veículos em áreas urbanas é também uma questão de planejamento e fiscalização. Em conformidade com a legislação vigente em Parauapebas-PA,

**(A)** a atividade econômica comercial e de serviços, sediando empregos, deve ter fiscalização mais tolerante e permissiva quanto ao volume de tráfego que gera.

**(B)** os geradores de tráfego são usos de produção de carga e descarga, desembarque, entrada, embarque e saída de veículos e pedestres, como comércio e serviços.

**(C)** é permitida a ampliação do número de estabelecimentos atacadistas em feiras e mercados sem adequação de seu pátio de estacionamento, por seu benefício econômico.

**(D)** as manobras de embarque e desembarque, por caracterizarem incomodidade transitória de curta duração, não são enquadradas como geradoras de tráfego.

**36** A política urbana brasileira possui o conceito de uso gerador de impacto de vizinhança, incluindo o Estudo Prévio de Impacto de Vizinhança (EIV) como condicionante para aprovação de projeto. Sobre o impacto de vizinhança, no Plano Diretor de Parauapebas-PA, pode-se dizer que

**(A)** condomínios de 110 unidades habitacionais ainda são considerados de médio porte na cidade e não se enquadram em empreendimento de impacto à vizinhança.

**(B)** não se enquadra o uso *shopping center* como de impacto à vizinhança, dado o incentivo local do plano de desenvolvimento econômico e geração de empregos do município.

**(C)** empreendimentos de comércio e serviços implantados em lotes de área total superior a 1 hectare são considerados de impacto à vizinhança pela supressão vegetal.

**(D)** habitação multifamiliar em glebas de área igual ou superior a 10.000 m<sup>2</sup> ou com mais de 100 unidades habitacionais é enquadrada como uso de impacto à vizinhança.

**37** Em caso de análise de projeto no Município, para o uso residencial multifamiliar e tipologia vertical, tem-se um lote de 20 m (testada) x 40 m (fundos) na Zona Central de Parauapebas. O coeficiente de aproveitamento máximo é de 150%; a taxa de ocupação máxima é de 75%; a taxa de permeabilidade é de 10%; o recuo nas laterais é de 3,0 m; o recuo frontal é de 5,0 m; o recuo de fundos é de 3,0 m. Neste caso, e sob estes parâmetros, é correto afirmar que é

**(A)** regular a edificação de 15 m de largura e 25 m de profundidade em projeção, com térreo mais sete pavimentos construídos e área ajardinada de 9,0 m x 9,0 m.

**(B)** irregular a edificação de 12 m de largura e 24 m de profundidade em projeção, com térreo mais cinco pavimentos construídos e área ajardinada de 5,0 m x 20 m.

**(C)** regular a edificação de 12,5 m de largura e 31,5 m de profundidade em projeção, com térreo mais três pavimentos construídos e área ajardinada de 5,0 m x 20 m.

**(D)** regular a edificação de 13,5 m de largura e 32,5 m de profundidade em projeção, com térreo mais quatro pavimentos construídos e área ajardinada de 4,0 m x 20 m.

**38** Para um lote de 10 m de testada e 20 m de profundidade, considerando-se o uso comercial na Zona Norte de Parauapebas, exigindo-se de 35% a 250% de coeficiente de aproveitamento e 90% de taxa de ocupação, estão regulares as respectivas áreas, construída e de ocupação, em

(A) 500 m<sup>2</sup> e 180 m<sup>2</sup>.  
 (B) 400 m<sup>2</sup> e 200 m<sup>2</sup>.  
 (C) 66 m<sup>2</sup> e 200 m<sup>2</sup>.  
 (D) 70 m<sup>2</sup> e 196 m<sup>2</sup>.

**39** O índice ou coeficiente de aproveitamento aplicado como índice urbanístico se refere a(à)

(A) fator aplicado à área média da gleba do loteamento, de modo a aferir sua provável rentabilidade como empreendimento imobiliário.  
 (B) montante total da área construída de edificação em relação à área superficial de seu lote, sem prejuízo de outros índices.  
 (C) capacidade de carga do sistema estrutural portante (vigas, pilares, lajes), sendo medida de estabilidade e segurança da edificação.  
 (D) quantidade de pavimentos construídos em relação ao limite da legislação urbanística para a respectiva zona em que se encontra.

**40** No fac-símile do mapa a seguir, são exibidos

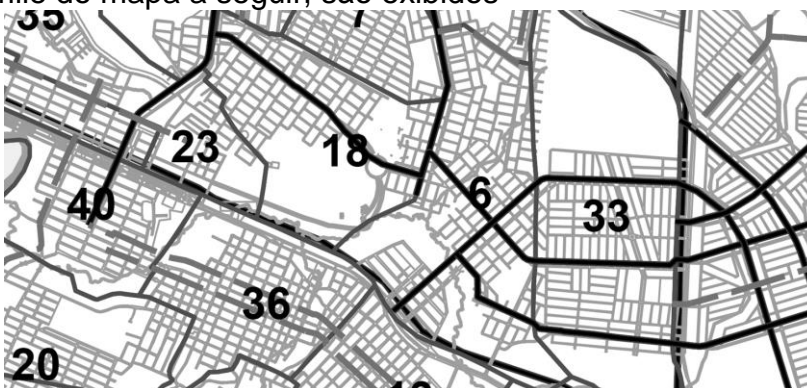


Figura 2 Trecho de Mapa do Plano Diretor de Parauapebas-PA. Anexo 17. Lei Complementar 24/2021.

(A) vias, quadras, lotes e glebas de grandes dimensões.  
 (B) divisão em terrenos e vias principais de trecho das Zonas Central e Norte.  
 (C) divisão em loteamentos e condomínios com vias principais.  
 (D) parcelamento de quadra e sistema viário com hierarquia.


**41** Segundo a normalização brasileira de Desenho Técnico de Arquitetura, analise as hachuras a seguir e identifique-as, na ordem apresentada, conforme seu respectivo material ilustrado e tipo de desenho.

	<b>Hachura 01</b>
	<b>Hachura 02</b>
	<b>Hachura 03</b>

De acordo com a ordem crescente, as hachuras representam

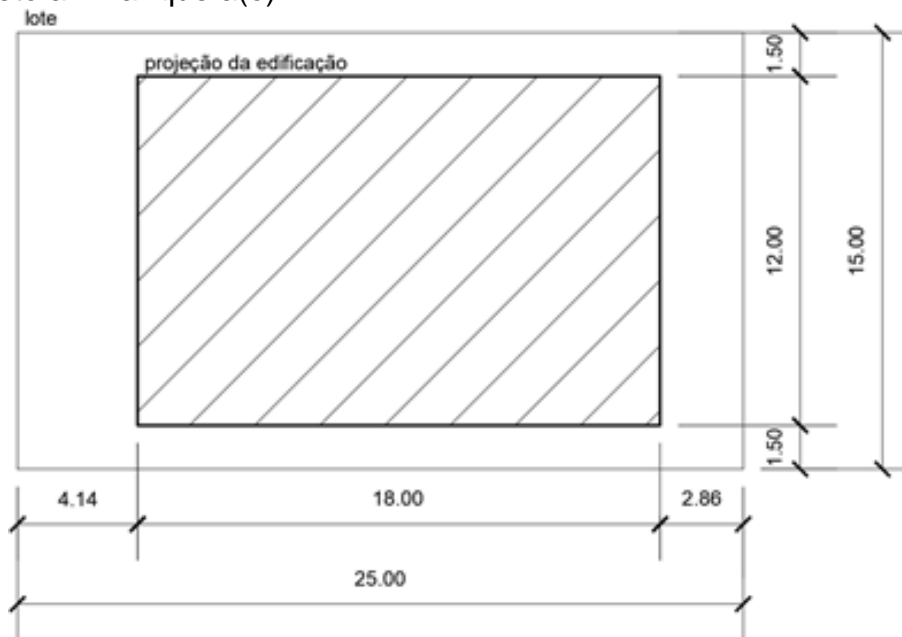
(A) concreto em corte; aterro; alvenaria em corte.  
 (B) concreto em vista; juta ou sisal em vista; gesso acartonado em planta.  
 (C) mármore em corte; vime em vista; aço em planta.  
 (D) granito em vista; aço corrugado em vista; *light steel frame* em planta.

42 De acordo com norma vigente de Desenho Técnico de Arquitetura, a figura abaixo representa



- (A) parede e esquadria de correr em planta.
- (B) meia-parede e escotilha em planta.
- (C) meia-parede e janela em planta.
- (D) parede e balancim em planta.

43 Considere o desenho técnico a seguir, que ilustra a delimitação de um lote e a projeção de uma edificação sobre ele, com cotas em metros. Sobre os índices urbanísticos aplicados a este caso, é correto afirmar que a(o)



- (A) taxa de ocupação indicada é de cerca de 0,45.
- (B) coeficiente de aproveitamento para edificação térrea é de 1,50.
- (C) ocupação transversal de lote é de 0,80 e a taxa de ocupação é de 0,6.
- (D) recuo frontal é de 1,50m e o aproveitamento para edificação térrea mais um pavimento é de 1,50.

44 O software mais popular no Brasil em uso para Desenho Técnico bidimensional de Arquitetura ainda é o Autodesk Autocad ®. Considerando-se sua interface no ano de 2022, é correto afirmar que

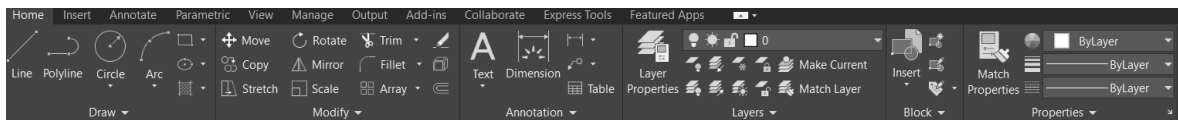




Figura 3 Trecho da barra de ferramentas e ícones do software AutoCAD 2022.

- (A) as espessuras de linha podem ser dadas pelas opções *lineweight* ou, na janela de impressão, pela vinculação entre cor da linha e espessura da linha, através da *plot style table*.
- (B) os tipos de linha variados (traço-ponto; traço baixo-asterisco, etc.) demandam a entrada no *plugin* auxiliar ao AutoCAD com linguagem *autolisp* chamado *linetype creator*.
- (C) o programa não permite a criação de sólidos bidimensionais, como superfícies no espaço, sem espessura.
- (D) retângulos podem ser desenhados apenas com o uso de posicionamento de coordenadas no formato *@x,y*.

**45** As duas figuras a seguir representam formas diferentes de visualização de um mesmo elemento gráfico, em duas e três dimensões, formado por um sólido maciço e um polígono na base. Os comandos de desenho e edição em software CAD (desenho assistido por computador) suficientes para a execução deste elemento são

	<p>Visão de topo</p>
	<p>Isométrica</p>

- (A) polígono, superfície, e altura.
- (B) retângulo e extrusão.
- (C) polígono, faces e sombra.
- (D) retângulo, e polilinha 3D.

**46** Considerando-se a normalização técnica vigente no Brasil sobre levantamento cadastral territorial para registro público (Norma Técnica Brasileira ABNT NBR 17047/2022), pode-se considerar como *peças técnicas* requisitadas ao responsável técnico para fins de registro público a(o)

- (A) planta técnica, o memorial justificativo consubstanciado, e o relatório topográfico.
- (B) cadastro georreferenciado, o relatório de caderno de campo, e a planta baixa.
- (C) planta topográfica, o memorial descritivo, e o relatório técnico.
- (D) cadastro técnico, o relatório geodésico, e a planta cadastral.

47 A ABNT NBR 17047/2022, *Levantamento cadastral territorial para registro público — Procedimento*, estabelece que o levantamento de imóveis quanto a seus defrontantes e confrontantes deva ser registrado a partir de vértices, conforme figura. Sobre o assunto, é correto afirmar que o(s)

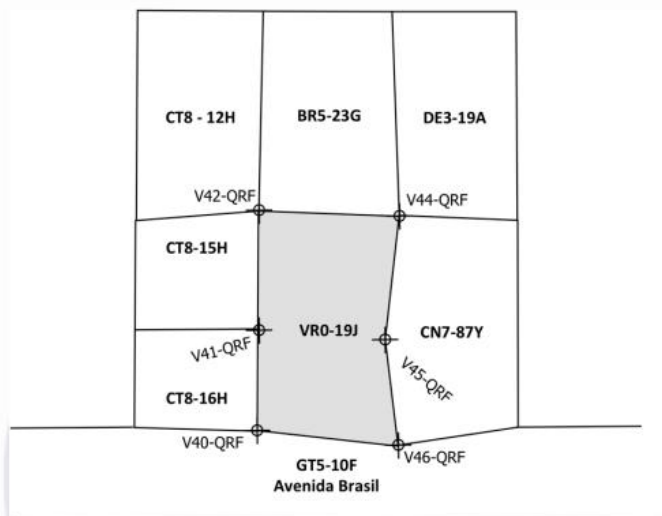


Figura 1 – Exemplo de parcela ou imóvel com confrontação por vértice

Figura 4 Exemplo de levantamento de parcela ou imóvel usando o método de confrontação por vértice. Fonte: ABNT (Associação Brasileira de Normas Técnicas). NBR 17047. Levantamento cadastral territorial para registro público — Procedimento. 16 f. Rio de Janeiro: ABNT, 30 jun. 2022. p. 06.

- (A) vértices de confrontantes devem ser registrados com coordenadas em sistema métrico UTM, da Projeção Transversa de Mercator, na respectiva Zona e em números decimais com seis casas para adequada precisão.
- (B) posicionamento de confrontantes com vértices permite uma tolerância estocástica de até 6% de erro, totalizando o máximo de 1,20 metros.
- (C) vértices de confrontantes devem ser registrados com coordenadas em sistema geodésico latitude e longitude no Sistema de Referência de Coordenadas vigente no Brasil em formato sexagesimal.
- (D) posicionamento de confrontantes difere daquele dos defrontantes, pois nas laterais registra-se vértices no eixo Leste-Oeste, enquanto na frente e nos fundos o registro é feito no eixo Norte-Sul.

48 A figura a seguir, nos termos da ABNT NBR 17047/2022, *Levantamento cadastral territorial para registro público — Procedimento*, representa um(a)

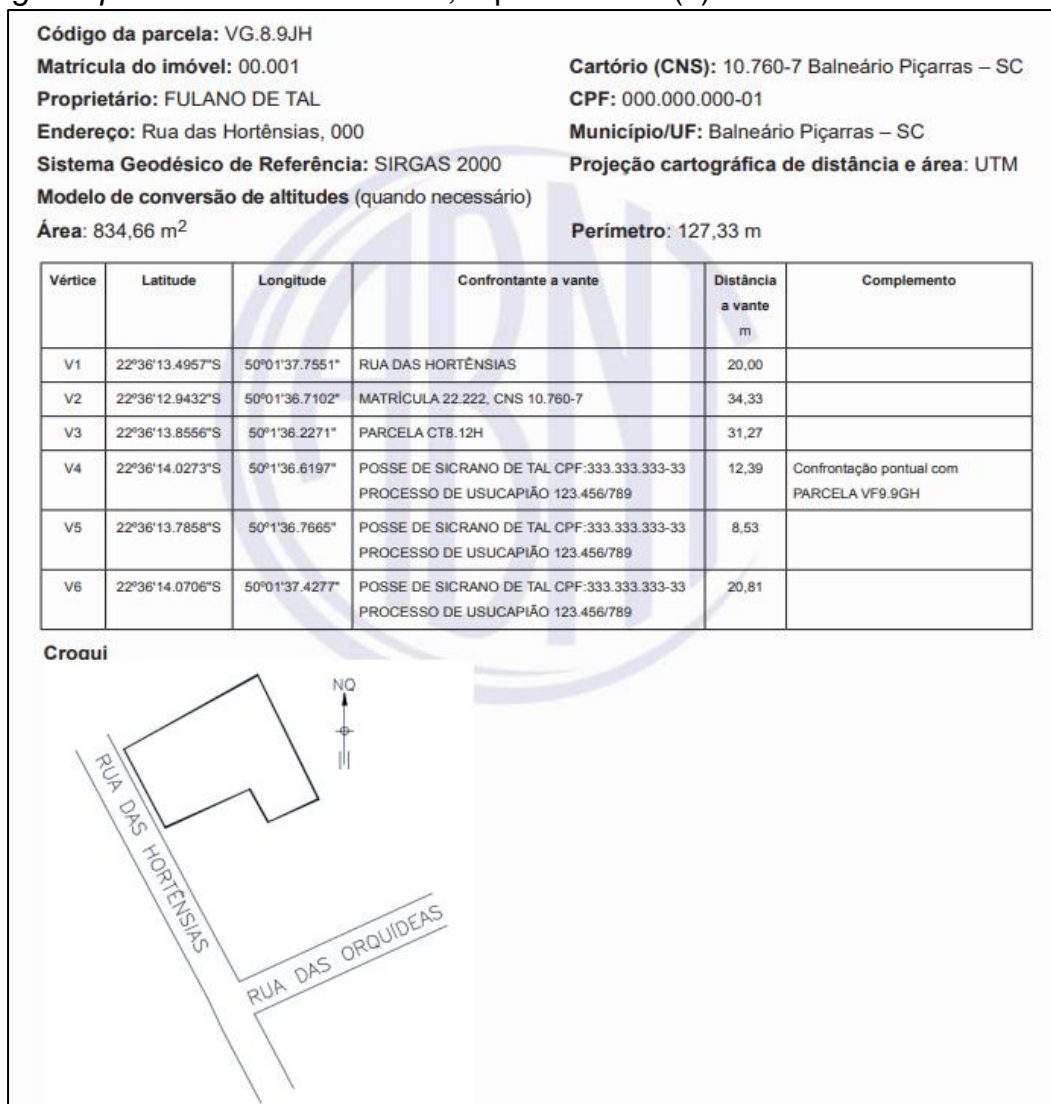


Figura 5 Exemplo de documentação técnica para registro público de imóveis. Fonte: ABNT (Associação Brasileira de Normas Técnicas). NBR 17047. Levantamento cadastral territorial para registro público — Procedimento. 16 f. Rio de Janeiro: ABNT, 30 jun. 2022.

- (A) planta de situação.
- (B) memorial descritivo.
- (C) planta topográfica adimensional.
- (D) cadastro técnico multifinalitário.



49 A seguir pode-se ler um trecho do livro *Direito Urbanístico Brasileiro*, do jurista e professor José Afonso da Silva, da Universidade de São Paulo. Com base na leitura, referente à atividade de fiscalização urbanística, é correto afirmar que a

**Fiscalização**

54. A licença, como vimos, embasa atividades administrativas de controle no correr da execução da obra, dentre as quais a possibilidade de, a qualquer momento, ingressar no recinto dela, para vistoriar e fiscalizar sua execução, a fim de verificar se está, ou não, sendo desenvolvida de acordo com o projeto aprovado, lançando o encarregado da fiscalização a devida notação na planta aprovada, que deve permanecer no local da obra.

55. O encarregado da fiscalização lavrará e entregará na repartição municipal competente o *termo de ocorrência* relativo a cada obra vistoriada.

Apreciado o termo de ocorrência e verificada a existência de irregularidade, será imediatamente expedido o auto de infração correspondente, bem como a intimação para a regularização da obra.

(SILVA, José Afonso. **Direito urbanístico brasileiro**. 5. ed. São Paulo: Malheiros, 2010. p. 449-450).

(A) fiscalização equivale, em termos práticos, ao nexa e à sequência lógica de notificação de proprietário, embargo de obra ou empreendimento e anulação da licença expedida.

(B) licença urbanística pode vir a ser revogada na medida em que se comprovem mudanças das circunstâncias da licença e seu contexto, sob interesse público.

(C) fiscalização extrapola a esfera administrativa quando afere ilícitos penais comprovados no imóvel ou parcela inspecionados, agindo por obrigação o poder de polícia do fiscal.

(D) licença urbanística ocorre mediante aprovação administrativa de projeto técnico de Arquitetura, Urbanismo, Infraestrutura e/ou Paisagismo e não demanda fiscalização.

50 O Cadastro Territorial Multifinalitário (CTM) passou a ser, desde os anos 1990, uma ferramenta essencial no ordenamento territorial urbano e municipal e na integração do planejamento urbano com o planejamento tributário, notarial e ambiental. Observando-se a figura a seguir e a regulamentação vigente no Brasil, particularmente a Portaria MCidades n.º 511, de 07/12/2009, pode-se afirmar que, neste caso, o CTM

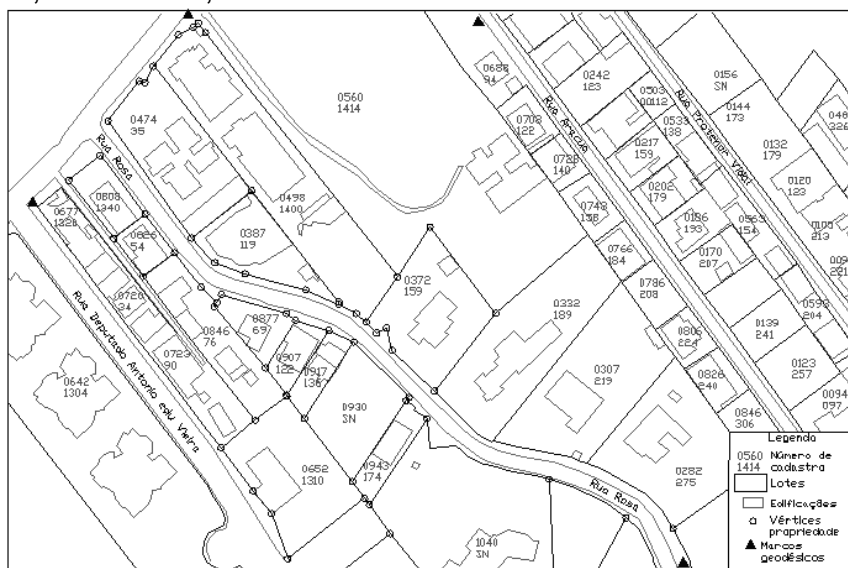


Figura 6 Exemplo de carta cadastral municipal de área urbana - Florianópolis/SC. Fonte: MCidades (Ministério das Cidades; Governo Federal). DIRETRIZES PARA A CRIAÇÃO, INSTITUIÇÃO E ATUALIZAÇÃO DO CADASTRO TERRITORIAL MULTIFINALITÁRIO NOS MUNICÍPIOS BRASILEIROS. Manual de apoio. 172 f. Brasília: Ministério das Cidades, 2010. p. 35.

(A) usa cartografia digital vetorial, imagens de radar e satélite e bases de dados para chaveamento e vinculação de informações de diversas fontes e utilidades.

(B) digitalizado é adequado a municípios de médio e grande portes, a áreas de interesse militar, minerário ou estratégico, uma vez que emprega alta tecnologia e grandes custos financeiros.

(C) é funcional estritamente quando mapeia integralmente e opera em tempo real sobre as mudanças de uso e ocupação do solo e do sítio físico do município.

(D) se destina ao uso de sistemas de informações geográficas para cadastrar edificações e lotes e, assim, medir suas áreas e fazer incidir sobre elas as alíquotas de tributos municipais.